

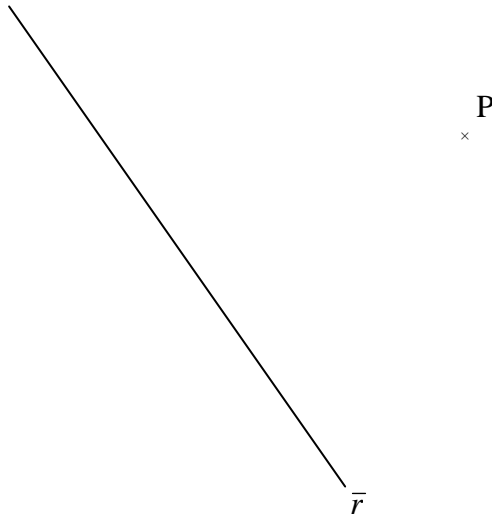
Apellidos y Nombre: _____ N°: _____

Curso y Clase: _____ Fecha: _____

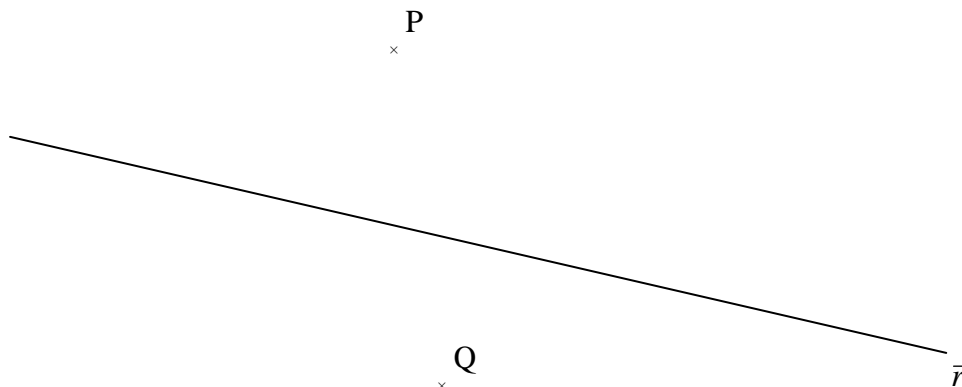
PARALELAS Y PERPENDICULARES

NOTA: UTILIZA LA ESCUADRA Y EL CARTABÓN EN LOS SIGUIENTES EJERCICIOS.

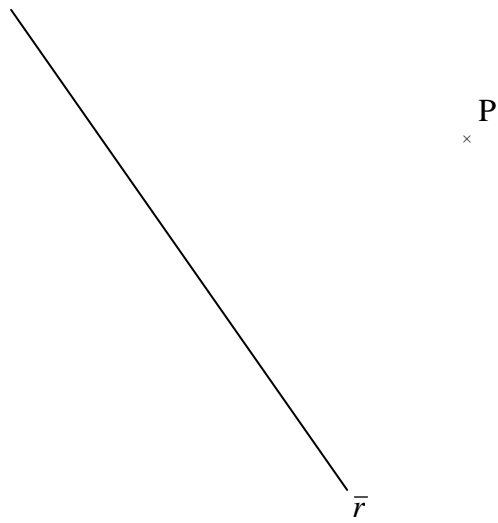
1.- Traza una recta paralela a la recta \bar{r} que pase por el punto P.



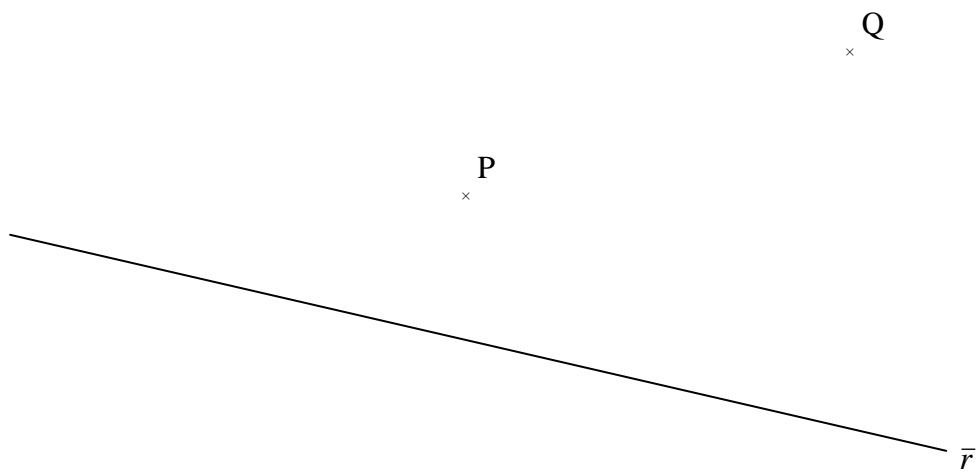
2.- Traza una recta paralela a la recta \bar{r} que pase por el punto P y otra que pase por el punto Q.



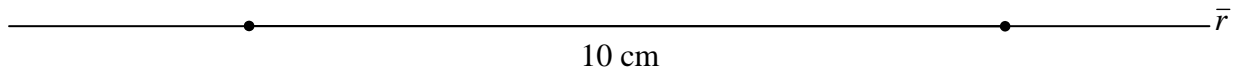
3.- Traza una recta perpendicular a la recta \bar{r} que pase por el punto P.



4.- Traza una recta perpendicular a la recta \bar{r} que pase por el punto P y otra que pase por el punto Q.



5.- Dibuja un rectángulo de 10 centímetros de largo y 6 centímetros de alto sobre la recta \bar{r} . Utiliza paralelas y perpendiculares.



6.- Dibuja la siguiente figura utilizando paralelas y perpendiculares.

